

LYS – 4

FELSEFE GRUBU TESTİ

1. Bu testte sırasıyla Psikoloji (1 – 10)
Sosyoloji (11 – 20)
Mantık (21 – 30)

ile ilgili 30 soru vardır.

2. Cevaplarınızı, cevap kâğıdının Felsefe Grubu Testi için ayrılan kısmına işaretleyiniz.

1. Organizmayı bir davranışta bulunmaya yönlendiren itici güce güdü, gereksinim ile doyum sağlanması arasında yaşanan sürece güdülenme denir.

Güdülenme süreci ile ilgili aşağıdaki bilgilerden hangisi yanlıştır?

- A) Sosyal güdüler, insan ilişkilerine bağlı olarak ortaya çıkarlar.
B) Aynı güdü farklı bireylerde farklı davranışa yol açabilir.
C) Güdülenmiş davranış amaca yöneliktir.
D) Fizyolojik güdüler deneyimlerle kazanılır.
E) Birincil güdüler yaşamsal gereksinimlerden kaynaklanan güdülerdir.

2. İnsanların fizyolojik ihtiyaçlarının dışında güvende olma, sevgi ve saygı görme gibi ihtiyaçlarını temel alan bu psikoloji ekolü, her insanın kendine özgü bir yapısı olduğunu, davranışlarını özgür iradesiyle seçtiğini savunur.

Bu açıklama, aşağıdaki yaklaşımlardan hangisine aittir?

- A) Hümanistik yaklaşım
B) Davranışçı yaklaşım
C) Biyolojik yaklaşım
D) Bilişsel yaklaşım
E) İşlevselci yaklaşım

3. I. Bireyin toplumsal etkiler karşısındaki davranışlarının araştırılması
II. Bireyin kronolojik yaşıyla davranışları arasındaki ilişkinin araştırılması
III. Okullarda öğrenme güçlüğü çeken öğrencilere yönelik bir öğretim programı geliştirilmesi
IV. Bir şirkette çalışan kişilerin verimliliğini arttırmaya yönelik etkinliklerin düzenlenmesi
V. Propagandanın bireyler üzerindeki etkisinin araştırılması

Yukarıdakilerden hangileri sosyal psikolojinin inceleme alanına girer?

- A) I, II ve IV
B) II ve III
C) III ve IV
D) III, IV ve V
E) I ve V

4. **Aşağıdakilerden hangisi algıda değişmezliğe örnektir?**

- A) Beyaz tavşanların olduğu bir ortamdaki siyah bir tavşanın öncelikle algılanması
B) Karanlıkta koyu görünen bir domatesin gerçek rengiyle algılanması
C) Enine çizgili elbise giyen birinin olduğundan şişman olarak algılanması
D) Çok aç birinin tahta parçasını eklemek sanması
E) Bir katilin ellerinde sürekli kan lekesi görmesi

5. Okul yeni açıldığında, bir yabancı dil öğretmeni ilk dersindeki sınıfla tanıştıktan sonra, diğer sınıfa derse girer ve öğrencileriyle tanışır. Dersin sonunda, ilk tanıştığı sınıfın öğrencilerinin adlarını unuttuğunu, ikinci sınıftaki öğrencilerin adlarını hatırladığını farkeder.

Aşağıdakilerden hangisi bu durumun nedenidir?

- A) İleriye ket vurma
- B) Negatif transfer
- C) Bilinçaltına itme
- D) Geriye ket vurma
- E) Şartlanma

6. Uykusuzluğun derse katılım düzeyi üzerindeki etkisinin araştırıldığı bir deneyde öğrenme yönlerinden denk iki grup öğrenci alınıyor. I. grup öğrencileri 24 saat uykusuz bırakılıyor. II. grup öğrencileri ise normal uykusunu uyuyor. Her iki grubun derse katılım düzeyleri karşılaştırılıyor. Deneyin sonucunda uykusuz kalan grubun derse katılım düzeyinin daha az olduğu saptanıyor.

Bu araştırmada bağımsız değişken ve deney grubu sırasıyla aşağıdakilerden hangisinde birlikte verilmiştir?

- A) Uykusuzluk – II. grup
- B) Derse katılım düzeyi – I. grup
- C) Uykusuzluk – I. grup
- D) Derse katılım düzeyi – II. grup
- E) Başarı düzeyi – I. grup

7. Çocukların konuşmaya yeni başladığı dönemde; uygun olmayan kelimeler, yanlış kullanımlar veya ifadeler ebeveynler tarafından farklı tepkilerle karşılaşılır. Örneğin; dilin doğru kullanılmadığı durumlarda, kaç çatma veya somurtma gibi tepkiler gösterilir. Dilin doğru kullanımında ise hoş giden eylemler sergilenir. Bu yolla çocuk dilin doğru kullanımını öğrenir.

Bu durum aşağıdaki öğrenme türlerinden hangisiyle ilgilidir?

- A) Model alarak öğrenme
- B) Klasik koşullanma yoluyla öğrenme
- C) Edimsel koşullanma yoluyla öğrenme
- D) Psikomotor öğrenme
- E) Kavrayış yoluyla öğrenme

8. İlköğretim çağındaki çocuklar için geliştirilen bir zekâ testi, bir grup çocuk üzerinde belirli zaman aralıklarıyla üç defa uygulanıyor. Her üç uygulamanın sonucunda da elde edilen puanlar birbirine oldukça yakın çıkıyor.

Bu açıklamada zekâ testlerinin hangi özelliği üzerinde durulmuştur?

- A) Zekâ testleri profesyonel kişiler tarafından hazırlanmalıdır.
- B) Testler ölçmek istediği özellik neyse onu ölçmelidir.
- C) İyi bir test, normlara sahip olmalıdır.
- D) Zekâ testleri bireysel farklılıkları ortaya çıkarmak amacıyla kullanılan tekniklerdir.
- E) Zekâ testleri güvenilir olmalıdır.

9. Yakın bir zamanda eşini kaybeden bir kişi bu durumu kabullenmeyip her sabah kalktığında ona kahvaltı hazırlamaya devam etmiştir.

Bu parçadaki davranış aşağıdaki savunma mekanizmalarından hangisine örnek olabilir?

- A) Ödünleme B) Yüceltme C) Yansıtma
D) Yadsıma E) Gerileme

10. Çevreci olduğunu söyleyen, herkese çevrenin korunması konusunda duyarlı olunması gerektiğini vurgulayan bir kişinin yere tükürmesi, **tutumlara ilişkin aşağıdaki yargılardan hangisiyle açıklanabilir?**

- A) Tutumlar zamanla değişebilir.
B) Tutumlar her zaman davranışa dönüşür.
C) Tutumlarımız ve davranışlarımız birbiriyle tutarlılık gösterir.
D) Farklı tutumlar birbiriyle ilişki içinde olmayabilir.
E) Tutumların bilişsel yönü ile davranışsal yönü arasında tutarsızlık olabilir.

11. Sosyoloji; toplumu, içinde bulunduğu koşulları dikkate alarak açıklamaya ve olanı olduğu gibi aktarmaya çalışan bir bilimdir.

Bu parçaya göre aşağıdakilerden hangisi sosyolojinin özelliklerinden biridir?

- A) Toplumsal normların nasıl olması gerektiğiyle ilgilenir.
B) Normatif bir alan değildir.
C) Bireyin davranışları arasındaki neden – sonuç ilişkisini deney ve gözlemlerle açıklar.
D) Toplumu bireylere göre değerlendirir.
E) Araştırmalarında sübjektif tekniklere başvurur.

12. Bir toplumun kurumlarında ve yapısında belirli bir durumdan başka bir duruma geçiş toplumsal değişimdir. Toplumsal değişim beraberinde toplumsal ilişkileri ve toplumsal yaşam biçimlerini de değiştirir.

Aşağıdakilerden hangisi toplumsal değişimin özellikleri arasında sayılamaz?

- A) Bir toplumdaki değişim her zaman olumlu yöndedir.
B) Değişim toplumun maddi ve manevi unsurlarını etkiler.
C) Zaman içinde değişmeyen bir toplum yoktur.
D) Kurumlardaki değişim birbirini etkiler.
E) Değişim, toplumdaki topluma farklılık gösterir.

13. – Farklı bir kültürel ortama giren bireyin, yeni kültüre uyum sağlamakta karşılaştığı güçlük ve sıkıntılardır.
 – Maddi kültür unsurlarındaki hızlı değişime karşın, manevi kültür unsurlarının yavaş değişmesi sonucunda ortaya çıkan dengesizliktir.
 – Farklı kültürlerden birey ve grupların belli bir kültürel etkileşime girmesi ve karşılıklı etkileşim sonucunda gerçekleşen kültür alış-verişidir.
 – Bir toplumun ulusal sınırları içindeki farklı kültürel birimlerdir.

Belirtilen ifadelerde aşağıdaki kültürel süreçlerin hangisinden söz edilmemiştir?

- A) Kültürleşme B) Kültür şoku
 C) Kültürel gecikme D) Alt kültür
 E) Zorla kültürlenme

14. – Bir zamanlar varlıklı olan bir kişinin, iflas etmesi sonucunda ekonomik ve sosyal gücünü yitirmesi
 – Yoksul çevre şartlarında yetişmiş bir kişinin kendi emeği ve başarısıyla sosyo-ekonomik düzeyi yüksek bir meslek sahibi olması

Bu süreçlerin yaşandığı bir toplumda aşağıdakilerden hangisinin varlığından söz edilebilir?

- A) Verilmiş statülerin egemenliğinin
 B) Açık sınıf tabakalaşmasının
 C) Yatay hareketliliğin
 D) Sınıfsız bir toplumsal yapının
 E) Kapalı toplumsal tabakalaşmanın

15. Toplamların tarihsel gelişim sürecinde geçirdiği evreler düşünüldüğünde; laikliğin, demokrasinin, sanayi ve ticaretin, çekirdek ailenin, kadın ve erkek eşitliğinin temel nitelikler olarak ön plana çıktığı toplum türü **aşağıdakilerden hangisidir?**

- A) Feodalite B) Kent
 C) İmparatorluk D) Ulus
 E) Aşiret

16. – Kadının aynı anda birden fazla erkekle evliliği
 – Erkek ya da kadının tek eşle evliliği
 – Erkeğin, evlendiği kadının ailesiyle oturması
 – Eşlerin farklı toplumsal çevreden seçilmesi

Bu yargılarda hangi evlilik türü örneklendirilmemiştir?

- A) Poliandri B) Monogami
 C) Matrilokal D) Endogami
 E) Egzogami

17. Bazı sosyolojik arařtırmalarda, arařtırma evreninin geniř olması nedeniyle, kitleyi temsil eden bir bölüm insan incelemeye alınır. Bu insan topluluđuna örneklem adı verilir.

Örneklem topluluđu belirlenirken ařađıdakilerden hangisine dikkat edilmelidir?

- A) Arařtırma evreninin tüm özelliklerini yansıtmasına
B) Arařtırma alanının çok geniř olmasına
C) Var olan arařtırma evreninden farklı olmasına
D) Toplumun bütününe iliřkin tüm özellikleri yansıtmısına
E) Arařtırmayla ilgili hipotezleri dođrulamasına

18. I. Dođa ile insan arasındaki iliřkilerin deđiřmesi, toplumsal yapıyı da deđiřtirir.
II. Bir toplumda nüfusun artıř oranı, göç eđilimleri ve özellikle kentsel yığılma olayları toplum yařamında sorunlara ve yeniliklere yol açar.

Bu yargılara dayanarak ařađıdakilerden hangisine ulařılabilir?

- A) Bilim ve teknoloji alanındaki yenilikler, toplumsal deđiřmenin temel etkenidir.
B) Toplumsal deđiřmenin belirleyicileri üretim iliřkileri ve üretim biçimidir.
C) Fiziksel çevre ve demografik faktörler toplumsal yapıda farklılařmalara neden olur.
D) Planlama yoluyla gerekleřen toplumsal deđiřmelerde uyumsuzluklar ve çatıřmalar en az düzeydedir.
E) Baskıcı yöntemlerle gerekleřtirilen toplumsal deđiřmeler kalıcı deđildir.

19. Bir öđretmenin sınıfta veya sınavda öđrencinin yerini deđiřtirmesi, hangi öđrencinin nerede oturacađını söylemesi normal karřılanırken, aynı öđretmenin Őehir ii otobüste yolculuk yaparken yolcuların yerini deđiřtirmeye kalkması beklenemez.

Bu aıklamada, ařađıdaki dūřüncelerden hangisi vurgulanmaktadır?

- A) Anahtar statü bireye birtakım haklar ve sorumluluklar yükler.
B) Bireyin bir toplumsal rolü, diđer bir toplumsal rolünü pekiřtirir.
C) Davranıřlar, bireylerin statüleri çerevesinde deđerlendirilir.
D) Farklı sosyal statülerin toplumsal rolleri aynıdır.
E) Sosyal statüler, bireyin kiřiliđinden bađımsızdır.

20. – Bir sınıftaki öđrenciler,
– İnternette aynı siteye üye olanlar,
– İskelede bekleyenler,
– Eski Güney Afrika'daki zenciler,

Bu örneklerde ařađıdakilerden hangisine yer verilmiştir?

- A) Toplumsal Grup
B) Toplumsal Kategori
C) Toplumsal Yığın
D) Toplumsal Azınlık
E) Toplumsal Sınıf

21. Her roman değerlidir.

“Mai ve Siyah” bir romandır.

O halde, “Mai ve Siyah” değerlidir.

Bu kıyasta, büyük, küçük ve orta terim sırasıyla aşağıdakilerden hangisinde doğru olarak verilmiştir?

- A) Değerli – Mai ve Siyah – Roman
 B) Mai ve Siyah – Roman – Değerli
 C) Değerli – Roman – Mai ve Siyah
 D) Mai ve Siyah – Değerli – Roman
 E) Roman – Mai ve Siyah – Değerli

22.

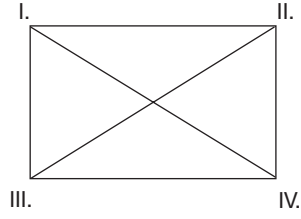
| | | |
|---|---|---|
| p | q | X |
| D | D | D |
| D | Y | D |
| Y | D | Y |
| Y | Y | D |

Bu doğruluk tablosunda doğruluk değerleri verilen X önermesi aşağıdakilerden hangisidir?

- A) $p \wedge q$ B) $q \Leftrightarrow p$ C) $\sim p \vee \sim q$
 D) $q \Rightarrow p$ E) $p \vee q$

23.

Hiçbir bitki ağaç değildir.



Bazı bitkiler ağaçtır. Bazı bitkiler ağaç değildir.

Bu karşı olum karesindeki önermeler arası ilişkiler dikkate alındığında I numaralı yere gelmesi gereken önermenin çelişigi aşağıdakilerden hangisidir?

- A) Her bitki ağaçtır.
 B) Bazı bitkiler ağaç değildir.
 C) Hiçbir bitki ağaç değildir.
 D) Bazı bitkiler ağaçtır.
 E) Her ağaç bitkidir.

24.

- Bütün yorumlamaları doğru olan önerme geçerlidir.
- En az bir değeri doğru olan önerme tutarlıdır.
- Tüm yorumlamaları yanlış olan önerme tutarsızdır.
- Aynı doğruluk değerine sahip olan önermeler eşdeğerdir.

Bu bilgilere göre, aşağıdakilerden hangisine ulaşılır?

- A) Bütün eşdeğer önermeler geçerlidir.
 B) Bütün tutarlı önermeler eşdeğerdir.
 C) Bütün tutarsız önermeler eşdeğerdir.
 D) Tutarlı bir önerme, her zaman geçerlidir.
 E) Bütün eşdeğer önermeler birbiriyle tutarlıdır.

25. Aşağıdaki önermelerden hangisinin ters döndürmesi yapılamaz?

- A) Her canlı ölümlüdür.
- B) Hiçbir kağıt kalem değildir.
- C) Bütün filozoflar bilgedir.
- D) Kimi balıklar mezgit değildir.
- E) Bazı çocuklar yaramazdır.

26. E : {Einstein, Newton, Kant}

Yukarıda verilen evrende;

“Her x için; x bilim adamıdır.” $\forall x$ (x bilim adamıdır.)

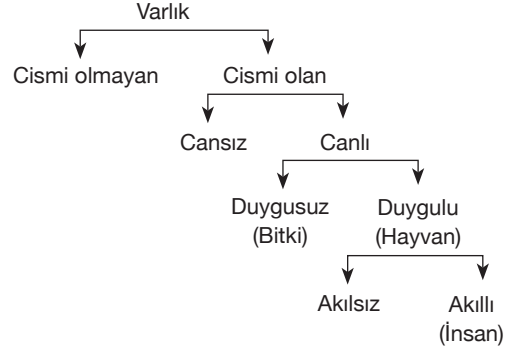
açık önermesi yanlış, “En az bir x için; x bilim adamıdır.”

$\exists x$ (x bilim adamıdır.) açık önermesi doğru değerini alır.

Buna göre, tikel bir önermenin verilen bir evrende doğru değerini alması için aşağıdakilerden hangisi gereklidir?

- A) Birden fazla terimden oluşması
- B) Evrene ait tüm elemanlarca gerçekleşmesi
- C) Bir önerme eklemi taşıması
- D) Evrene ait en az bir eleman tarafından gerçekleşmesi
- E) Evrendeki tüm özellemlerinin doğru olması

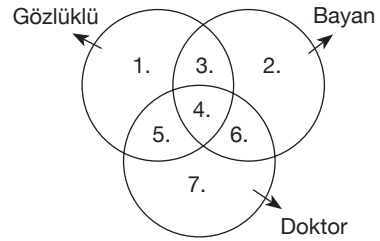
27.



Yukarıdaki Porphyrios Ağacı'na göre aşağıdakilerden hangisi söylenemez?

- A) “Akıllı”nın yakın cinsi “duygulu” dur.
- B) “Varlık” üstün cinstir.
- C) “Canlı” özel türdür.
- D) “Cismi olan” “duygulu” nun uzak cinsidir.
- E) “Duygulu” görelî türdür.

28.



Yukarıdaki diyagramda 4 numaralı alanı ifade eden önerme aşağıdakilerden hangisidir?

- A) Bazı gözlüklüler hem doktor hem bayandır.
- B) Bazı bayanlar doktordur.
- C) Bazı doktorlar gözlüklüdür.
- D) Bazı gözlüklüler doktor değildir.
- E) Tüm gözlüklü bayanlar doktordur.

29. İnce giyinmek üşütmeye neden olur.

Üşütmek hasta eder.

Hasta olmak kötü hissettirir.

Kötü hissetmek mutsuz eder.

O halde ince giyinmek mutsuz eder.

Verilen örnek hangi kıyas türüne aittir?

A) Entimem

B) Sorit

C) Safsata

D) Seçmeli Kıyas

E) Analoji

30. – “Bir nesnenin çinko olması olanaklıdır.” önermesi mümkün önermeye,

– “Ay, Dünya’nın uydusudur.” önermesi yalın önermeye,

– “Ateşin sıcak olması zorunludur.” önermesi zorunlu önermeye örnektir.

Yukarıda örneklendirilen önermeler hangi ölçüte göre sınıflandırılmıştır?

A) Öznenin kaplamına

B) Yargının kipliğine

C) Yargının sayısına

D) Yargının niteliğine

E) Öznenin niceliğine