

LYS – 4

COĞRAFYA – 2 TESTİ

1. Bu testte 16 soru vardır.
2. Cevaplarınızı, cevap kâğıdının Coğrafya – 2 Testi için ayrılan kısmına işaretleyiniz.

1. Asit yağmurları toprak ve suyla ilişkide olan canlıları etkiler.
Aşağıdakilerden hangisinin asit yağmurlarına neden olduğu söylenemez?
- A) Endüstri faaliyetleri
B) Termik santraller
C) Jeotermal enerji kullanımı
D) Egsoz gazları
E) Petrol rafinerileri

2. Anadolu'da kurulan değişik medeniyetlere ait eserler yapılan arkeolojik kazılarla ortaya çıkarılmaktadır.
Aşağıdakilerden hangisi Anadolu'da kurulmuş medeniyetlerden birine örnek olarak gösterilemez?
- A) Hitit
B) Troya
C) Urartu
D) Lidya
E) İnkâ

3. **Aşağıdaki doğal kaynaklardan hangisi, Türkiye'nin Ortadoğu'daki stratejik ve jeopolitik önemini artırmaktadır?**

- A) Demir
B) Su
C) Bakır
D) Mermer
E) Linyit

- 4.

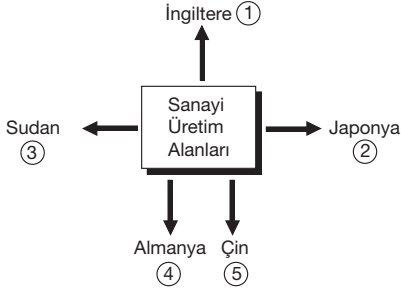
	ÜRETİM (%)
KÖMÜR	12
PETROL	0,5
DOĞAL GAZ	1

Yukarıdaki tabloda, Japonya'nın kullandığı enerji kaynaklarında yerli üretimin payı verilmiştir.

Japonya'nın doğal kaynak ve rezervleri düşünüldüğünde ve tablodaki bilgilere dayanarak aşağıdakilerden hangisi söylenebilir?

- A) Petrol yataklarının işletim hakkı yabancı şirketlere verilmiştir.
B) Japonya'nın enerji kaynaklarını işletmeye açacak sermaye birikimi yoktur.
C) Doğal gaz ve petrol yatakları derinde yer aldığından işletmeye açılması zordur.
D) Japonya fosil yakıtların rezervi açısından zengin değildir.
E) Enerji kaynaklarının ithalat yoluyla karşılanması enerji üretim maliyetini azaltmaktadır.

5.



Yukarıda belirtilen ülkelerden hangisi, sanayi üretim alanları içerisinde gösterilemez?

- A) 1 B) 2 C) 3 D) 4 E) 5

6. Yerel ve çok ender bulunan bitki türlerine endemik bitkiler denir.

Türkiye'deki endemik bitki türlerinin Avrupa Kıtası'ndan daha fazla olmasının nedeni aşağıdakilerden hangisidir?

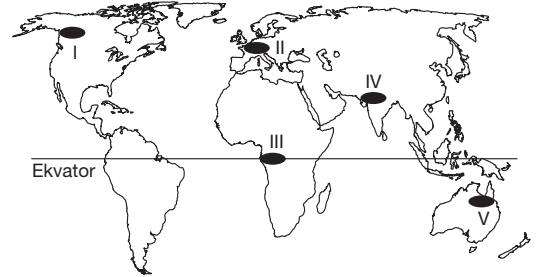
- A) İklim ve iklim geçişlerinin çok olması
B) Toprak kalınlığının fazla olması
C) 30° – 60° enlemleri arasında yer alması
D) Enlem farkının az olması
E) Akarsu rejimlerinin düzensiz olması

7. Ham maddesi madene dayalı endüstri kuruluşları metalurji sanayi olarak tanımlanır.

Buna göre, Almanya'nın Ruhr Havzası'nın metalurji sanayisi bakımından gelişmiş olmasında aşağıdakilerden hangisi diğerlerine göre daha belirleyici olmuştur?

- A) Demir yolu taşımacılığı
B) İş gücü varlığı
C) Su ulaşım yollarının varlığı
D) Bölgeye olan göçler
E) Taş kömürü yatakları

8. Yeryüzündeki biyoçeşitliliği etkileyen en önemli faktörlerden biri de insandır. Nüfusun hızla artması, sanayileşme, kentleşme gibi etmenler ekosistemlerdeki canlı tür ve sayısı önemli ölçüde azalmasına neden olmuştur.



Buna göre, haritada işaretli bölgelerin hangisinde sanayileşmeye bağlı olarak biyoçeşitliliğin daha az olduğu söylenebilir?

- A) I B) II C) III D) IV E) V

9. İnsani gelişme endeksi, ülke nüfusunun;
- ortalama yaşam süresi ve sağlık koşulları
 - okur – yazar oranı
 - eğitim seviyesi

gibi ölçütlere bakılarak hazırlanır.

Bu ölçütlere göre, aşağıdaki ülkelerden hangisinin gelişmişlik düzeyi en yüksektir?

- A) Norveç B) Rusya C) Hindistan
D) Çin E) Suudi Arabistan

10. Ekosistemi etkileyen iklim olaylarından biri de şiddetli yağışlardır. Özellikle yer şekillerinin sade olduğu büyük akarsu havzalarında bulunan ülkelerde bu yağışlar sonucunda sel baskınları yaşanmaktadır.

Buna göre, aşağıdaki ülkelerin hangisinde şiddetli yağışlar sonucunda sel ve taşkınlar daha sık görülür?

- A) Avusturya B) Bangladeş C) Japonya
D) İsviçre E) İspanya

11. Beşeri süreçler, yani insanların artan gereksinimleri ve çeşitlenen ekonomik faaliyetler doğal süreçleri etkilemektedir.

	İNSAN GEREKSİNİMİ VEYA EKONOMİK FAALİYET	DOĞAL ORTAMDAKİ DEĞİŞİKLİK
I	Doğanın beşeri yapı üzerine etkisine, teknolojik faaliyetlerle çözüm	Hollanda kıyılarında denizden toprak kazanılması
II	Teknoloji ve ulaşımın gelişmesi	Manş Tüneli'nin yapılması
III	Tarımsal su talebi büyük ölçekli olan sulama projelerinin gerekliliği	Central Valley Projesi
IV	Turizm potansiyelini artırma isteği	Dubai Palmiye Adaları
V	Doğal afetlerde can kaybını azaltma isteği	Tsunami için erken uyarı sistemlerinin geliştirilmesi

Yukarıdaki tabloda verilenlerden hangisi, değişen insan gereksinimleri ve ekonomik faaliyetlerin doğal ortamı değiştirdiğine bir örnek değildir?

- A) I B) II C) III D) IV E) V

12. Aşağıdaki kentlerden hangisi dünyanın en işlek liman kentlerinden biri olması nedeniyle küresel etkiye sahiptir?

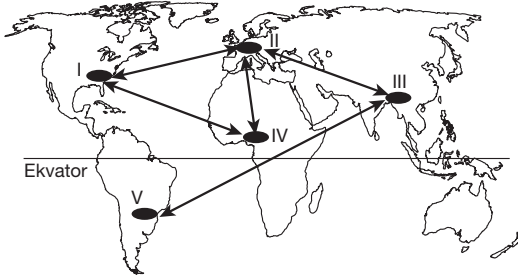
- A) Antalya B) Pire C) Marsilya
D) Stockholm E) Roma

13. Gebze'de nüfus, 1900'lü yılların başında daha çok kırsal alanlarda yaşamaktaydı. 1960 yılından itibaren başlayan göç dalgası, 1980 yılının başından itibaren önlenemez bir hal almıştır. Kentleşme hızının sanayileşmenin önüne geçmesiyle birlikte şehrin etrafındaki bağ, bahçe ve tarım arazileri, büyük bir hızla yerini alt yapısı yetersiz olan yerleşim alanlarına bırakmıştır.

Yukarıdaki parçadan yararlanılarak, Gebze ve çevresindeki sanayileşme hareketinin aşağıdakilerden hangisine neden olduğu söylenemez?

- A) Nüfusun hızla artmasına
B) Çevredeki kırsal alanlardan göç almasına
C) Plansız kentleşmeye
D) Turizmin gelişmesine
E) Konut ihtiyacının artmasına

14. Dünya üzerinde üretimin fazla olduğu gelişmiş alanlar arasında ticaret faaliyetleri diğer bölgelere göre daha fazla olmaktadır.



Buna göre, haritada numaralandırılmış bölgelerden hangileri arasındaki ticaret ağı diğerlerinden daha fazla gelişmiştir?

- A) I ve II B) I ve IV C) II ve III
D) II ve IV E) III ve V

15. Aşağıda tarihsel süreçte yerleşmelerin farklılaşmasının çeşitli aşamaları verilmiştir.

- I. Tarıma geçişle, tarım yapılan yerleşim birimleri kurulmuştur.
II. Üretimin artması, ticaret şehirlerini doğurmuştur.
III. Devletlerin ortaya çıkmasıyla idari kentler oluşmuştur.
IV. Turizm faaliyetlerinin başlamasıyla turizm kentleri kurulmuştur.
V. Sanayi devriminden sonra madencilik ve sanayi kentleri gelişmiştir.

Yukarıda verilenlerden hangilerinin yerinin değişmesi halinde, yerleşmelerin değişmesindeki tarihsel sıralama doğru olur?

- A) I ile II B) I ile III C) II ile III
D) III ile V E) IV ile V

16. II. Dünya Savaşı'ndan sonra birçok uluslararası siyasi, askeri ve ekonomik örgüt kurulmuştur. Bazı örgütler küresel, bazıları ise bölgesel özellik taşımaktadırlar.

Buna göre, aşağıdakilerden hangisi küresel özellik taşıyan örgütler içerisinde gösterilemez?

- A) NATO (Kuzey Atlantik Antlaşması Örgütü)
B) Dünya Bankası
C) OPEC (Petrol İhraç Eden Ülkeler Örgütü)
D) Avrupa Birliği
E) GREENPEACE